

Concurso Público para provimento dos cargos efetivos da Câmara
Municipal de Caldas Novas – GO

MOTORISTA DE VEÍCULOS LEVES

CADERNO DE QUESTÕES

03/03/2024

DISCIPLINA	QUESTÕES
Língua Portuguesa	01 a 05
Matemática	06 a 10
Atualidades e História, Geografia e Conhecimentos Gerais de Goiás e de Caldas Novas	11 a 15
Noções de Informática	16 a 20
Conhecimentos Específicos do Cargo	21 a 60
Prova de Redação	-

SOMENTE ABRA ESTE CADERNO QUANDO AUTORIZADO

LEIA ATENTAMENTE AS INSTRUÇÕES

Atenção: Transcreva no espaço designado da sua FICHA DE IDENTIFICAÇÃO, com sua caligrafia usual, considerando as letras maiúsculas e minúsculas, a seguinte frase:

A última folha da árvore caiu, anunciando o inverno.

1. Quando for autorizado abrir o caderno de questões, verifique se ele está completo ou se apresenta imperfeições gráficas que possam gerar dúvidas. Se isso ocorrer, solicite outro exemplar ao(a) fiscal de sala.
2. Este caderno é composto por questões de múltipla escolha. Cada questão apresenta cinco alternativas de respostas, das quais apenas uma é a correta.
3. O cartão-resposta é personalizado e não será substituído em caso de erro no preenchimento. Ao recebê-lo, confira se seus dados estão impressos corretamente. Se houver erro de impressão, notifique o(a) fiscal de sala.
4. Preencha, integralmente, um alvéolo por questão, utilizando caneta de tinta AZUL ou PRETA, fabricada em material transparente. A questão deixada em branco, com rasura ou com marcação dupla terá pontuação ZERO.

CONCURSO PÚBLICO

Leia o Texto 1 para responder às questões 01 e 02.

Texto 1

Mati Diop discute colonialismo na Berlinale com documentário sobre relíquias roubadas de Benin

Por RODRIGO FONSECA, de Berlim

Sob a bênção dos orixás, a atriz e diretora Mati Diop, franco-senegalesa que ganhou fama depois de conquistar o Grande Prêmio do Júri do Festival de Cannes com "Atlantique" (2019), abriu uma frente importante para as narrativas de não ficção na disputa pelo Urso de Ouro de 2024. Na manhã deste domingo, ela exibiu em solo alemão o .doc "Dahomey" – e colecionou elogios. A produção reconstituiu o processo de regresso de 26 relíquias ao governo do Benin. São obras de arte (algumas de cunho religioso) expatriadas para a França durante o jugo colonial de países africanos.

"Faço cinema para tornar os fatos tangíveis para as pessoas", disse Mati, na Berlinale.

Sua narrativa flerta com a fantasia ao dar voz a uma das estatuetas em trânsito, uma carranca que ganha o nome de 26. A partir dela, ouvimos reflexões sobre pertença, identidade e brutalidade da colonização. Em resposta ao JORNAL DO BRASIL, Mati destacou a presença do músico Wally Badaron, um colaborador de Carlinhos Brown.

"Esse filme nasceu como um projeto de ficção e eu queria que ele contasse com a dimensão de fantasia de um artista de origem africana", disse a cineasta ao JB. "Essa história fala da originalidade da nossa cultura".

Disponível em: <Mati Diop discute colonialismo na Berlinale com documentário sobre relíquias roubadas de Benin (jb.com.br)>. Acesso em: 21 fev. 2024. [Adaptado].

QUESTÃO 01

Com base nas informações da notícia, é possível entender que a repatriação de obras de arte retratadas no filme significa

- (A) uma ação de valorização da arte não europeia diante da dívida histórica com povos africanos.
- (B) uma conscientização sobre a importância de a arte cinematográfica pensar outras manifestações culturais.
- (C) um acordo entre artistas afrodescendentes e indústria do cinema para valorizar a arte em Benin.
- (D) uma proposta de articulação entre o cinema europeu e o africano de modo a valorizar o multiculturalismo.
- (E) um procedimento diplomático entre nações envolvidas em conflitos de guerra.

QUESTÃO 02

Na fala da cineasta, ao afirmar "Faço cinema para tornar os fatos tangíveis para as pessoas", a expressão "fatos tangíveis" expressa o sentido de

- (A) refletir sobre a relação entre ficção e realidade no cinema internacional.
- (B) expressar os sentidos múltiplos que os documentários podem apresentar.
- (C) desencadear discussões sobre a função social da arte em países africanos.
- (D) trazer temas históricos desconhecidos à discussão política do colonialismo.
- (E) possibilitar o acesso do público a um cinema de arte antes restrito a festivais.

Leia o Texto 2 para responder às questões de 03 a 05.

Texto 2

Entrada

Manoel de Barros

Distâncias somavam a gente para menos. Nossa morada estava tão perto do abandono que dava até para a gente pegar nele. Eu conversava bobagens profundas com os sapos, com as águas e com as árvores. Meu avô abastecia a solidão. A natureza avançava nas minhas palavras tipo assim: o dia está frondoso em borboletas. No amanhecer o sol põe glórias em meu olho. O cinzento da tarde me empobrece. E o rio encosta as margens em minha voz. Essa fusão com a natureza tirava de mim a liberdade de pensar. Eu queria que as garças me gorjeassem. Então comecei a fazer desenhos verbais de imagens. Me dei bem. Perdoem-me os leitores desta entrada, mas vou copiar alguns desenhos verbais que fiz para este livro. Acho-os como os impossíveis verossímeis do mestre Aristóteles. Dou quatro exemplos: 1) É nos loucos que grassam os luarais; 2) Eu queria crescer para passarinho; 3) Sapo é um pedaço de chão que pula; 4) Poesia é a infância da língua. Sei que os meus desenhos verbais nada significam. Nada. Mas, se o nada desaparecer, a poesia acaba. Eu sei. Sobre o nada eu tenho profundidades.

BARROS, Manoel. *Poesia Completa*. Leya: São Paulo, 2010, p. 07.

QUESTÃO 03

O texto poético é constituído por uma ordem própria. O poema de Manoel de Barros possibilita uma reflexão sobre

- (A) a linguagem que revela uma preocupação com a expressão formal das estruturas morfossintáticas.
- (B) a dificuldade de estabelecer proximidade com o leitor de poesia ao se construir um poema-prosa.
- (C) a composição da poesia com base na relação temática entre infância e a subversão da linguagem.
- (D) a importância de se contextualizar aspectos da vida do autor para entendimento de sua poética.
- (E) a função da poesia de tratar dos infortúnios vivenciados pelo sujeito lírico e a superação da dor.

QUESTÃO 04

Manoel de Barros recorre, em seu texto, à expressão 'tipo assim', que evidencia

- (A) uma inadequação linguística, típica da manifestação da oralidade de jovens.
- (B) uma expressão que apresenta uma explicação, seguida pelo uso de dois pontos.
- (C) um neologismo, por introduzir vocábulos desconhecidos do leitor de poesia.
- (D) um elemento coesivo que estabelece o encadeamento do fluxo narrativo no texto.
- (E) uma remissão às metáforas visuais utilizadas nos efeitos de sentido do poema.

QUESTÃO 05

No trecho "distâncias somavam a gente para menos", o sujeito lírico

- (A) desconstrói a base semântica oracional, uma vez que subverte a seleção dos sentidos previstos na língua.
- (B) propõe uma inversão da ordem dos constituintes, permitindo a indefinição das palavras escolhidas.
- (C) transmuta o sentido das palavras, de modo a evidenciar ambiguidades na compreensão do verso.
- (D) seleciona itens lexicais pertencentes ao campo da infância, ao produzir expressões non-sense.
- (E) incorpora ironia ao poema, criando uma sensação de escárnio das situações vividas na infância.

RASCUNHO**RASCUNHO**

QUESTÃO 06

Dados os números naturais x e y , sabemos que o produto desses números é $x \cdot y = 2^5 \cdot 3^6 \cdot 5^2 \cdot 7$ e o máximo divisor comum é $\text{mdc}(x, y) = 2^2 \cdot 3^3 \cdot 7$. Nesse caso, o mínimo múltiplo comum, $\text{mmc}(x, y)$, é:

- (A) $2^3 \cdot 3^3 \cdot 5^2$
- (B) $2^2 \cdot 3^2 \cdot 5^1$
- (C) $2^3 \cdot 3^2 \cdot 5^2$
- (D) $2^2 \cdot 3^3 \cdot 5^3$
- (E) $2^2 \cdot 3^2 \cdot 5^2$

QUESTÃO 07

Uma criança, ao brincar subindo e descendo as escadas de uma loja, notou que, ao subir saltando de dois em dois degraus, o último salto só teria um degrau e, descendo saltando de três em três degraus, o último salto teria apenas dois degraus. Denotando por q o quociente da divisão do número de degraus por 2 e por s o quociente da divisão do número de degraus por 3, a relação entre q e s é:

- (A) $2q + 3s = 2$
- (B) $3q - 2s = 1$
- (C) $2q - 3s = 1$
- (D) $3q + 2s = 2$
- (E) $2q - 3s = 2$

QUESTÃO 08

O lucro atual de uma empresa corresponde a 10% do seu faturamento. O restante é utilizado para despesas diversas e investimentos. Se o faturamento dobrar e as despesas diversas e investimentos subirem apenas 40%, qual será o novo percentual do faturamento que correspondente ao lucro da empresa?

- (A) 18%.
- (B) 26%.
- (C) 37%.
- (D) 43%.
- (E) 74%.

QUESTÃO 09

O gráfico de uma função quadrática passa pelos pontos $(0, 0)$; $(1, 15)$ e $(6, 0)$. Nesse caso, o vértice dessa parábola é o ponto

- (A) $(2, 17)$
- (B) $(2, 27)$
- (C) $(2, 31)$
- (D) $(3, 17)$
- (E) $(3, 27)$

QUESTÃO 10

A média entre três números distintos e positivos é 5. Se substituirmos o maior dos três números por 5 e calcularmos a média, obtemos 4. Por outro lado, se trocarmos o menor dos três primeiros números por 5 e calcularmos a média, obtemos 6. Os três números iniciais são:

- (A) 1, 6 e 8.
- (B) 3, 5 e 7.
- (C) 3, 4 e 8.
- (D) 2, 5 e 8.
- (E) 2, 6 e 7.

RASCUNHO

Leia o texto a seguir.

Dentro do território Kalunga, distante 65 km da sede de Monte Alegre, a comunidade quilombola Tinguizal, formada por 78 famílias, está abrigando um projeto liderado pela "Associação Mulheres Quilombo Kalunga de Monte Alegre" que está, ponto a ponto, descobrindo na costura uma alternativa para gerar renda. Atualmente, 32 mulheres participam das atividades de corte e costura na associação, produzindo, de forma precária, roupas, acessórios e tapetes com adereços tradicionais. A produção, ainda incipiente, é comercializada na região ou levada pelas mãos de voluntários para Brasília (DF). É o que faz, com prazer, a líder comunitária Maria Helena Serafim Rodrigues, conhecida como Tuia Kalunga. "Nos inspiramos na história, na memória e na vivência. Como ainda não temos grandes recursos de vendas, o que fazemos é apenas para comprar e repor matéria-prima", afirma.

Mulheres Kalunga em Monte Alegre de Goiás. *Agência SEBRAE de Notícias*. 16/06/2023. Disponível em: < <https://encurtador.com.br/uDV48> >. Acesso em: 24 fev. 2024.

QUESTÃO 11

De acordo com as informações do texto, de que forma o tal projeto contribuiu com a comunidade local?

- (A) Preservando a identidade cultural.
- (B) Aproveitando a riqueza local.
- (C) Gerando futuras trabalhadoras.
- (D) Promovendo a igualdade econômica.
- (E) Agravando a desigualdade de gênero.

QUESTÃO 12

De acordo com os dados do Ministério do Trabalho e Emprego, 729 trabalhadores foram encontrados em situação análoga à escravidão em Goiás até novembro de 2023. Isso tornou o Estado líder no ranking brasileiro de trabalhadores encontrados nessa situação. Onde se concentra a grande maioria desses casos?

- (A) Zona rural.
- (B) Capital do Estado.
- (C) Espaço urbano.
- (D) Periferias urbanas.
- (E) Grandes cidades.

Leia o texto a seguir.

A disponibilização dos seis cultivares de pequi para os viveiristas, agricultores e consumidores após 25 anos de pesquisa é um marco importante. As cultivares geneticamente superiores e o sistema de produção desenvolvidos por meio da parceria entre a Embrapa Cerrados e a Emater Goiás são soluções tecnológicas para produção de mudas precoces, homogêneas, vigorosas e saudáveis, que terão destino certo para implantação de pomares e produção de pequi com e sem espinhos para os diferentes nichos de mercado, incluindo a agroindústria

SILVA NETO, Sebastião Pedro da. Pequi: a frutífera nativa de vanguarda. In: *Cultivares de pequi*. Goiânia, GO: Agência Goiana de Assistência Técnica, Extensão Rural e Pesquisa Agropecuária, 2022, p. 3.

QUESTÃO 13

No texto, a interação entre a ciência e o mercado resultou em

- (A) extinção de antigos cultivares.
- (B) poluição ambiental.
- (C) inovação tecnológica.
- (D) novos nichos de mercado.
- (E) desvalorização do fruto.

Leia o poema a seguir.

Um tropel maluco
de mil patas
no seio das matas.
Um tiro de trabuco
deu um bruto soco
na quieteza virgem da paisagem.
E homens da cor-de-areia,
vindos da banda do mar,
chegaram à beira do Rio Vermelho,
resolveram-lhe os poços azuis
em que dormiam palhetas cor-de-brasa
e deitaram-lhe fogo às águas claras.

E o velho pajé muito velho,
cabeça branca das cinzas de muitas eras,
num esgar medonho de fera,
gritou: Anhanguera, Anhanguera!

Os homens da cor-de-areia
bateram e venceram a nação dos Goiás.

ÉLIS, Bernardo. O Descobrimento. In: ÉLIS, Bernardo. *Primeira Chuva*. 2. ed. Goiânia: Editora do Autor Goiano, 1971, p. 13.

QUESTÃO 14

Os "homens cor-de-areia" representam qual personagem da história de Goiás?

- (A) Os indígenas.
- (B) Os espanhóis.
- (C) Os sertanejos.
- (D) Os agricultores.
- (E) Os colonizadores.

Leia o texto a seguir.

Caldas Novas-GO, por mais de dois séculos, ficou conhecida pela cura e valor terapêutico de suas águas termais. O uso terapêutico das águas termais somente se transformou a partir da década de 1960, com o surgimento dos primeiros empreendimentos turísticos voltados para o lazer e entretenimento, como por exemplo, com a inauguração da Pousada do Rio Quente em 1962. Desde então, começaram a veicular na imprensa propagandas e as políticas de incentivo ao desenvolvimento de empreendimentos ligados, de forma mais veemente, às atividades turísticas de lazer e entretenimento. Até a década de 1970, notícias veiculadas na imprensa, especialmente nos jornais, na literatura e até na música, estavam, em sua maioria, associadas à cura de enfermidades, sobretudo da hanseníase, e as fontes termais eram frequentadas por banhistas – pobres em sua maioria – que buscavam o alívio de dores e enfermidades nos banhos termais de Caldas Novas e Caldas Velhas (Pousada do Rio Quente).

PALMERSTON, S. C. E.; OLIVEIRA, H. A. Caldas Novas-GO: tradição e identidade na transição do uso das águas termais para cura e sua apropriação pelos empreendimentos turísticos para o lazer e entretenimento. In: SANTOS, J.; VIANA, J.I.B. (Org.). *Memória, Cultura e Sociedade*. 1.ªed. Ponta Grossa- PR: Athena, 2021, v. 1, p. 149.

QUESTÃO 15

Por qual motivo a transformação mencionada no texto demorou a acontecer?

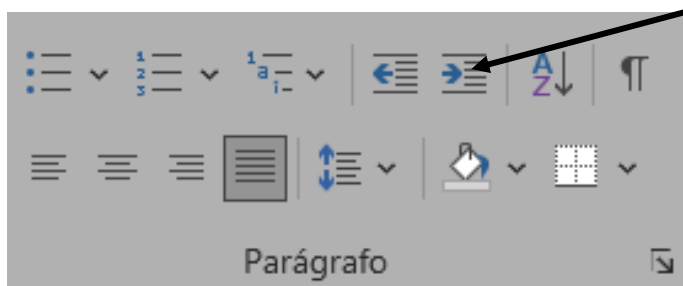
- (A) O desconhecimento dos canais de comunicação.
- (B) O incômodo com a concentração de enfermos.
- (C) O baixo poder aquisitivo da população.
- (D) A falta de atrações recreativas.
- (E) A ausência de interesse pela região.

RASCUNHO

RASCUNHO

QUESTÃO 16

Na figura a seguir, é apresentada parte da barra de ferramentas que permite a formatação de documentos no aplicativo Microsoft Word (versão português). A seta indica a opção de:



- (A) diminuir recuo.
- (B) aumentar recuo.
- (C) espaçamento de linha.
- (D) marcadores.
- (E) justificar à esquerda.

QUESTÃO 17

Na imagem a seguir, é apresentada uma tabela que pode ser preenchida ou editada por um editor de planilha eletrônica. Caso se queira multiplicar todos os elementos da coluna (C), no Microsoft Excel (versão português), pode-se fazer uso da função:

	A	B	C
1	7	8	6
2	3	4	4
3	2	3	5

- (A) =mult(C1:C3)
- (B) *mult(C1:C3)
- (C) =mult(C1=C3)
- (D) *(C*C2*C3)
- (E) =(C1:C2)

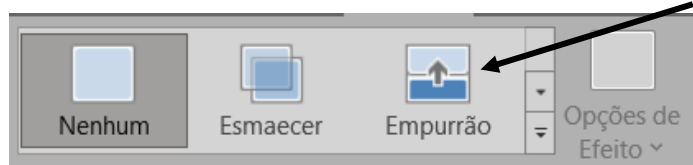
QUESTÃO 18

Arquivos podem ter diferentes tamanhos e conteúdos. Uma forma de transportar diversos tipos de arquivos é utilizar um compactador de arquivos. É exemplo de uma extensão de arquivo compactado:

- (A) .zip
- (B) McAfee
- (C) Oracle Database
- (D) Skype
- (E) TikTok

QUESTÃO 19

O Microsoft Power Point (versão português) é um software que permite elaborar apresentações. É sabido que esse software permite criar efeitos, animações e inserir diferentes elementos que permitem deixar mais clara e fluida uma apresentação. A imagem a seguir representa o efeito de:



- (A) intervalo.
- (B) animação.
- (C) transição.
- (D) imprimir PDF.
- (E) apresentação.

QUESTÃO 20

Uma dificuldade no transporte de arquivos entre Sistemas Operacionais (Software Livre e Software Proprietário) é a incompatibilidade entre eles. Para isso foi criado um formato de arquivo, pela Adobe Systems, para apresentar documentos de maneira independente do aplicativo, hardware ou sistema operacional usado para criá-los. Esse formato de arquivo é:

- (A) .DOCX
- (B) .PPTX
- (C) .XLSX
- (D) .TXT
- (E) .PDF

QUESTÃO 21

Conforme o art. 27 do Código de Trânsito Brasileiro (CTB), o motorista deve, antes de iniciar a circulação do veículo nas vias públicas, verificar a existência e as boas condições dos equipamentos de uso obrigatório, bem como

- (A) atender uma chamada telefônica para informar sobre a viagem.
- (B) fiscalizar o nível de emissão de poluentes e ruído produzidos pelos veículos.
- (C) indicar com antecedência a manobra pretendida, acionando a luz do veículo.
- (D) aguardar a aprovação de um agente de trânsito para que possa ligar o veículo.
- (E) assegurar-se da existência de combustível para chegar ao local de destino.

QUESTÃO 22

De acordo com o Código de Trânsito Brasileiro (CTB), as vias destinadas à circulação são classificadas de acordo com o seu uso. Quais são essas classificações?

- (A) Ciclovias e ciclofaixas.
- (B) Vias urbanas e vias rurais.
- (C) Vias rurais e ciclovias.
- (D) Vias urbanas e ciclorrotas.
- (E) Ciclofaixas e calçadas.

QUESTÃO 23

Conforme o art. 97 do Código de Trânsito Brasileiro (CTB), as especificações básicas, configuração e condições essenciais para o registro, licenciamento e circulação dos veículos serão determinadas pelo

- (A) DETRAN.
- (B) DENATRAN.
- (C) CONTRAN.
- (D) CETRAN.
- (E) SENATRAN.

QUESTÃO 24

De acordo com o Código de Trânsito Brasileiro (CTB), antes de iniciar qualquer manobra que implique em um deslocamento lateral, o condutor deverá indicar seu propósito de forma clara e com a devida antecedência, por meio da luz indicadora de direção de seu veículo, ou

- (A) utilizando o farol de luz baixa.
- (B) utilizando o farol de luz alta.
- (C) ligando o pisca-alerta.
- (D) fazendo gesto convencional de braço.
- (E) acionando a buzina.

QUESTÃO 25

Observe a imagem a seguir.



Disponível em: <https://www.gov.br/transportes/pt-br/pt-br/assuntos/transito/arquivos-senatran/educacao/publicacoes/manual_vol_ii_2.pdf>. Acesso em: 19 de dez. 2023.

A placa de trânsito (sinal A-29), representada na imagem, indica

- (A) projeção de cascalho.
- (B) área com risco de desmoronamento.
- (C) pista irregular.
- (D) pista escorregadia.
- (E) confluência a direita.

QUESTÃO 26

Observe a imagem a seguir.



Disponível em: <https://www.gov.br/transportes/pt-br/pt-br/assuntos/transito/arquivos-senatran/educacao/publicacoes/manual_vol_ii_2.pdf>. Acesso em: 19 de dez. 2023.

De acordo com o Manual Brasileiro de Sinalização de Trânsito, qual é o significado para o sinal A-20b, representado na figura acima?

- (A) Ponte móvel.
- (B) Ponte estreita.
- (C) Depressão.
- (D) Aclive acentuado.
- (E) Declive acentuado.

QUESTÃO 27

Observe a imagem a seguir.



Disponível em: <https://www.gov.br/transportes/pt-br/pt-br/assuntos/transito/arquivos-senatran/educacao/publicacoes/manual_vol_ii_2.pdf>. Acesso em: 19 de dez. 2023.

A sinalização de advertência representada na imagem possui qual significado?

- (A) Curva acentuada em "S" à esquerda.
- (B) Curva acentuada em "S" à direita.
- (C) Curva em "S" à esquerda.
- (D) Pista sinuosa à esquerda.
- (E) Pista sinuosa à direita.

QUESTÃO 28

O Código de Trânsito Brasileiro (CTB) afirma que a velocidade máxima permitida para uma via é indicada por meio de sinalização, respeitando suas características técnicas e as condições de trânsito. No entanto, caso uma via de trânsito rápido não possua sinalização regulamentadora, qual será a velocidade máxima estabelecida?

- (A) 80 km/h.
- (B) 90 km/h.
- (C) 100 km/h.
- (D) 110 km/h.
- (E) 120 km/h.

QUESTÃO 29

Leia o caso a seguir.

Um motorista encontra-se em seu automóvel em uma rodovia de pista dupla desprovida de sinalização regulamentadora de velocidade.

Qual deve ser a velocidade máxima para transitar nessa rodovia com o seu veículo?

- (A) 70 km/h.
- (B) 80 km/h.
- (C) 90 km/h.
- (D) 100 km/h.
- (E) 110 km/h.

QUESTÃO 30

O Manual Brasileiro de Fiscalização de Trânsito diz que infrações continuadas são caracterizadas

- (A) pelo cometimento de repetidas condutas idênticas, ao longo de um percurso, de forma reiterada e intermitente.
- (B) por uma conduta única, inalterada e ininterrupta, observada por mais de uma vez em momentos distintos e sequenciais.
- (C) como aquelas em que o cometimento de uma infração implica necessariamente no cometimento de outra.
- (D) como aquelas infrações que ocorrem de maneira independente, ou seja, uma não depende da outra para acontecer.
- (E) como atos administrativos, vinculado na forma da lei, da autoridade de trânsito ou seus agentes quando ocorre a constatação do cometimento de infração de trânsito.

QUESTÃO 31

Medidas administrativas são providências de caráter complementar exigidas para a regularização de situações infracionais. A medida administrativa de remoção do veículo consiste

- (A) na imobilização do veículo, pelo tempo necessário, no local da abordagem ou em local que seja garantida a segurança viária.
- (B) na inserção, em sistema informatizado, de restrição do documento que certifica o licenciamento do veículo.
- (C) no recolhimento do documento de habilitação, aplicado pela autoridade de trânsito quando há imposição da penalidade de suspensão do direito de dirigir.
- (D) no deslocamento do veículo do local onde é verificada a infração para depósito fixado pela autoridade de trânsito com circunscrição sobre a via.
- (E) na retirada ou remanejamento da carga de um veículo que exceda o limite de peso ou a capacidade máxima de tração.

QUESTÃO 32

Os cintos de segurança, encostos de cabeça e ancoragem para sistemas de retenção infantil são equipamentos obrigatórios em veículos. Qual é a classificação desses itens mencionados?

- (A) Segurança passiva.
- (B) Iluminação.
- (C) Diversos.
- (D) Visibilidade.
- (E) Velocidade.

QUESTÃO 33

Para a realização do transporte rodoviário remunerado de produtos perigosos, o transportador deve estar devidamente inscrito

- (A) na Secretaria Nacional de Trânsito (SENATRAN).
- (B) no Registro Nacional de Transportadores Rodoviários de Cargas (RNTRC).
- (C) na Agência Nacional de Transportes Terrestres (ANTT).
- (D) no Código de Trânsito Brasileiro (CTB).
- (E) no Instituto Nacional de Metrologia, Normalização e Qualidade Industrial (INMETRO).

QUESTÃO 34

Com referência ao transporte de cargas perigosas, qual é a porcentagem de acréscimo na aplicação da multa em caso de reincidência de infrações com tipificação idêntica, dentro do período de doze meses a partir do trânsito em julgado da primeira infração cometida?

- (A) 45%.
- (B) 40%.
- (C) 35%.
- (D) 30%.
- (E) 25%.

QUESTÃO 35

O condutor de um automóvel, ao dirigir sob chuva, deve manter, pelo menos,

- (A) o pisca-alerta ligado.
- (B) a buzina acionada.
- (C) os faróis de luz baixa acesos.
- (D) os faróis de luz alta acesos.
- (E) os faróis desligados.

QUESTÃO 36

O TWI é um indicador utilizado pelo condutor para verificar e determinar o momento de realizar a troca de quais componentes do veículo?

- (A) Pastilhas de freio.
- (B) Discos de freio.
- (C) Amortecedores.
- (D) Pneus.
- (E) Palhetas do limpador de para-brisa.

RASCUNHO

QUESTÃO 37

Em caso de um acidente, qual é a orientação, de acordo com os protocolos de direção defensiva e primeiros socorros, sobre a distância mínima recomendada para posicionar a sinalização com relação ao local do acidente em condições de chuva, neblina ou à noite, em uma via onde a velocidade máxima é de 80 km/h?

- (A) 200 metros ou aproximadamente 200 passos largos.
- (B) 160 metros ou aproximadamente 160 passos largos.
- (C) 120 metros ou aproximadamente 120 passos largos.
- (D) 80 metros ou aproximadamente 80 passos largos.
- (E) 40 metros ou aproximadamente 40 passos largos.

QUESTÃO 38

Qual é o termo que designa o fenômeno no qual os pneus dos veículos não conseguem dissipar a lâmina d'água sob eles, resultando na perda de contato com a pista?

- (A) Frenagem brusca.
- (B) Força de sucção.
- (C) Aquaplanagem.
- (D) Força centrífuga.
- (E) Projeção de água.

QUESTÃO 39

Qual é o tipo de sinalização que constitui um subsistema da sinalização viária, composto por marcas, símbolos e legendas, aplicados sobre o pavimento da pista de rolamento?

- (A) Semafórica.
- (B) Vertical.
- (C) Cicloviária.
- (D) Temporária.
- (E) Horizontal.

QUESTÃO 40

Conduzir o veículo sem acionar o limpador de para-brisa durante a chuva constitui uma infração de trânsito. Qual é a natureza dessa infração e a(s) sua(s) penalidade(s)?

- (A) Infração grave e multa.
- (B) Infração leve e multa.
- (C) Infração grave e multa (duas vezes).
- (D) Infração média e multa (duas vezes).
- (E) Infração leve e multa (duas vezes).

QUESTÃO 41

Configura infração de trânsito confiar ou entregar a direção do veículo a uma pessoa que, mesmo habilitada, por seu estado físico ou psíquico, não estiver em condições de dirigi-lo com segurança. Qual é a natureza dessa infração e a(s) sua(s) penalidade(s)?

- (A) Infração leve e multa.
- (B) Infração média e multa.
- (C) Infração grave e multa.
- (D) Infração gravíssima e multa.
- (E) Infração gravíssima de multa (duas vezes).

QUESTÃO 42

Deixar o condutor de prestar socorro à vítima de sinistro de trânsito quando solicitado pela autoridade e seus agentes, representa uma infração conforme o Código de Trânsito Brasileiro (CTB). A natureza desta infração e a(s) sua(s) penalidade(s) serão quais?

- (A) Infração leve e multa.
- (B) Infração média e multa.
- (C) Infração grave e multa.
- (D) Infração gravíssima e multa.
- (E) Infração gravíssima de multa (duas vezes).

QUESTÃO 43

Qual é a função da faixa dupla contínua na cor amarela pintada no meio de uma pista?

- (A) Dividir os fluxos opostos de circulação, criando uma delimitação no espaço disponível para cada sentido e indicando quais são os trechos em que a ultrapassagem e os deslocamentos laterais são permitidos para os condutores.
- (B) Dividir os fluxos opostos de circulação, delimitando o espaço disponível para cada sentido e regulamentando os trechos em que a ultrapassagem e os deslocamentos laterais são proibidos para os dois sentidos, exceto para acesso a imóvel lindeiro.
- (C) Dividir os fluxos opostos de circulação, delimitando o espaço disponível para cada sentido e regulamentando os trechos em que a ultrapassagem, a transposição e o deslocamento lateral são proibidos ou permitidos.
- (D) Ordenar os fluxos de mesmo sentido de circulação delimitando o espaço disponível para cada faixa de trânsito e regulamentando as situações em que são proibidas a ultrapassagem e a transposição de faixa de trânsito, por comprometer a segurança viária.
- (E) Ordenar os fluxos de mesmo sentido de circulação, criando uma delimitação no espaço disponível para cada faixa de trânsito e indicando quais são os trechos em que a ultrapassagem e a transposição são permitidas para os condutores.

QUESTÃO 44

Configura infração, segundo o Código de Trânsito Brasileiro (CTB), deixar o condutor, envolvido em acidente sem vítima, de adotar providências para remover o veículo do local, quando necessária tal medida para assegurar a segurança e a fluidez do trânsito. Qual é a natureza da infração e a(s) sua(s) penalidade(s)?

- (A) Infração leve e multa.
- (B) Infração leve e multa (duas vezes).
- (C) Infração leve e multa (três vezes).
- (D) Infração média e multa (três vezes).
- (E) Infração média e multa.

QUESTÃO 45

Observe a imagem a seguir.



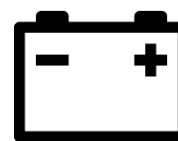
Disponível: <<https://www.pngwing.com/pt/free-png-pfjre>> Acesso em: 27 de dez. 2023.

Quando uma luz de advertência igual a imagem representada acima se acende no painel do veículo, significa um provável problema no sistema de

- (A) lubrificação do motor.
- (B) suspensão.
- (C) freios.
- (D) direção.
- (E) transmissão.

QUESTÃO 46

Observe a imagem a seguir.



Disponível: <<https://www.pngwing.com/pt/free-png-mlaiu>> Acesso em: 27 de dez. 2023.

Se uma imagem como a representada acima acende no painel do veículo enquanto ele está em movimento, qual é o seu significado?

- (A) Pisca alerta ligado.
- (B) Porta aberta.
- (C) Cinto desacoplado.
- (D) Bateria com falha de carregamento.
- (E) Sistema de arrefecimento com problema.

QUESTÃO 47

O rodízio de pneus consiste no revezamento das posições dos pneus de um carro. Após realizar o rodízio, é recomendado que o condutor também realize no veículo

- (A) a troca das pastilhas e os discos de freio.
- (B) a troca dos discos e fluido do freio.
- (C) o alinhamento e balanceamento das rodas.
- (D) a troca dos amortecedores dianteiros e o alinhamento das rodas.
- (E) a troca dos amortecedores dianteiros e traseiros.

QUESTÃO 48

É um líquido que tem a função de transmitir a força aplicada pelo pedal de freio às rodas. A função citada se refere à qual componente do veículo?

- (A) Fluido de freio.
- (B) Pastilhas de freio.
- (C) Discos de freio.
- (D) Óleo de transmissão.
- (E) Cilindro mestre.

QUESTÃO 49

Quais são os componentes responsáveis por facilitar a entrada e a saída de ar no cilindro do motor?

- (A) Os pistões.
- (B) As válvulas de admissão e escape.
- (C) Os anéis dos pistões.
- (D) Os bicos injetores.
- (E) As bielas.

QUESTÃO 50

É imprescindível a substituição da bomba d'água com defeito do veículo para garantir o adequado funcionamento de qual sistema?

- (A) Sistema elétrico.
- (B) Sistema de lubrificação.
- (C) Sistema de transmissão.
- (D) Sistema de suspensão.
- (E) Sistema de arrefecimento.

QUESTÃO 51

Além das dimensões físicas, quais são os outros aspectos que devem ser verificados para que seja possível instalar um novo fusível no lugar de um danificado em um veículo?

- (A) Capacitância e potência.
- (B) Tensão e potência.
- (C) Condutividade e resistência elétrica.
- (D) Corrente e tensão nominal.
- (E) Corrente e resistência.

QUESTÃO 52

Qual é a principal razão para a troca periódica dos filtros de ar do veículo?

- (A) Proteger o motor contra impurezas.
- (B) Aumentar a vida útil das pastilhas de freio.
- (C) Reduzir a emissão de gases poluentes.
- (D) Garantir uma transmissão suave.
- (E) Garantir a qualidade do ar no interior do veículo.

QUESTÃO 53

Qual é a importância de verificar regularmente a pressão dos pneus para a segurança do veículo?

- (A) Evitar o desgaste prematuro dos freios.
- (B) Manter a eficiência do sistema de arrefecimento.
- (C) Garantir uma alta velocidade em condições de chuva.
- (D) Prolongar a vida útil das velas de ignição.
- (E) Melhorar a estabilidade em curvas.

QUESTÃO 54

Qual é a importância da verificação regular do nível do fluido de arrefecimento no sistema de refrigeração do veículo?

- (A) Evitar vazamentos de óleo no motor.
- (B) Evitar o superaquecimento do motor.
- (C) Proteger o sistema de escapamento contra corrosão.
- (D) Assegurar uma partida confiável do veículo.
- (E) Reduzir o atrito nas peças móveis do motor.

QUESTÃO 55

É recomendado verificar a condição das velas de ignição durante a manutenção periódica para

- (A) reduzir o desgaste do alternador.
- (B) prolongar a vida útil do filtro de ar-condicionado.
- (C) evitar vazamentos de fluidos.
- (D) assegurar uma ignição eficiente do combustível.
- (E) evitar o acúmulo de poeira nos tapetes do veículo.

QUESTÃO 56

Qual item é crucial para a visibilidade do condutor em condições de chuva e deve ser inspecionado regularmente?

- (A) O líquido do reservatório do limpador de para-brisa.
- (B) As luzes de freio do veículo.
- (C) As palhetas do limpador de para-brisa.
- (D) A pressão dos pneus do automóvel.
- (E) O nível do combustível do automóvel.

QUESTÃO 57

A diminuição da potência do motor, a dificuldade em acelerar e os engasgos ou solavancos durante a condução são sinais que indicam a necessidade de fazer a troca de qual componente do automóvel?

- (A) Alternador.
- (B) Filtro de combustível.
- (C) Motor de partida.
- (D) Correia dentada.
- (E) Coxim do motor.

QUESTÃO 58

Qual componente desempenha um papel crucial no controle da temperatura do motor de um automóvel, regulando o fluxo do líquido de arrefecimento?

- (A) Válvula termostática.
- (B) Cabeçote do motor.
- (C) Ventoinha do radiador.
- (D) Volante do motor.
- (E) Disco de embreagem.

QUESTÃO 59

Atirar do veículo ou abandonar na via objetos ou substâncias constitui uma infração de trânsito. Qual é a natureza dessa infração e a(s) sua(s) penalidade(s)?

- (A) Infração leve e multa.
- (B) Infração leve e multa (duas vezes).
- (C) Infração média e multa.
- (D) Infração gravíssima e multa.
- (E) Infração gravíssima de multa (duas vezes).

QUESTÃO 60

A distância suficiente para o condutor perceber uma situação de risco, reagir e parar o veículo evitando a colisão, é denominada de distância de

- (A) parada.
- (B) reação.
- (C) frenagem.
- (D) seguimento.
- (E) emergencial.

RASCUNHO

**REDAÇÃO
MÉDIO****Instruções**

Você deve desenvolver um dos gêneros oferecidos nas propostas de construção textual. O tema é único para os dois gêneros e deve ser desenvolvido segundo a proposta escolhida. O texto deve ser redigido em prosa. A fuga do tema ou cópia da coletânea anula a redação. A leitura da coletânea é obrigatória. Ao utilizá-la, você não deve copiar trechos ou frases. Quando for necessário, a transcrição deve estar a serviço do seu texto. Independentemente do gênero escolhido, o seu texto **NÃO** deve ser assinado.

Tema:**TURISMO SUSTENTÁVEL: COMO PRATICÁ-LO?****Coletânea****Texto 1****Papel do turismo para o desenvolvimento local**

Entende-se que o turismo tem um importante papel no campo econômico, cultural e na troca social, uma vez que reflete fortemente na economia local, regional e nacional. Contudo, para o bom planejamento e desenvolvimento das localidades, é indispensável conhecer a opinião dos moradores dos destinos turísticos, pois a população local é parte essencial para o bom desenvolvimento do turismo.

As percepções e as atitudes dos residentes a respeito dos impactos do turismo são uma consideração importante no planejamento e na política turística a ser adotada com o fim de obter o êxito no desenvolvimento e no funcionamento de projetos atuais e futuros.

O crescimento econômico, o bem-estar social e a proteção do ambiente constituem o desafio enfrentado pelo setor e equacionar os benefícios e os prejuízos do turismo é o grande desafio dos agentes envolvidos na sua promoção.

Disponível em: <<https://sebrae.com.br/sites/PortalSebrae/artigos/impacto-economico-social-e-ambiental-do-turismo,9b95760686ff6810VgnVCM1000001b00320aRCRD>>. Acesso em: fev. 2024.

Texto 2

O turismo moderno, caracterizado por fenômeno de massa, causa diversos efeitos nas comunidades e nos centros receptores. Tradicionalmente, os pesquisadores têm concentrado os seus estudos sobre a influência econômica do turismo e da recreação nas destinações turísticas. Estes tendem a considerar a geração de divisas, a importância e as características do gasto feito pelos turistas, a geração de emprego e o papel do turismo como agente de desenvolvimento regional. Contudo, é evidente que a atividade turística gera outros efeitos, principalmente ambientais, sociais e culturais (CASASOLA, 2003).

Disponível em: <<https://periodicos.ufsm.br/download>>. Acesso em: fev. 2024.

Texto 3**O que é turismo sustentável?**

Basicamente, podemos compreender o turismo sustentável como uma forma de viajar e descobrir destinos. No entanto, nessa aventura, busca-se respeitar a cultura local, o meio ambiente, as pessoas, as tradições e os recursos naturais. Além disso, destacam-se as comunidades locais, com o objetivo de fazer com que os turistas aprendam sobre elas.

Nesse contexto, cabe dizer ainda que a Organização Mundial do Turismo (OMT) define o turismo sustentável como “o tipo de turismo que considera plenamente seus impactos econômicos, sociais e ambientais atuais e futuros para atender às necessidades dos turistas, indústria, meio ambiente e comunidades locais”.

Disponível em: <<https://www.sabra.org.br/site/parceria-global/>>. Acesso em: fev. 2024.

Propostas de redação**A – Artigo de opinião**

O artigo de opinião é um gênero que assume o caráter argumentativo e tem por finalidade expressar o ponto de vista do autor sobre determinada temática a fim de persuadir seu interlocutor. É comum que esse gênero seja veiculado em mídias de comunicação de massa, como jornais e revistas.

Tendo em vista seu papel de destaque em sua região, você foi convidado(a) por um jornal de grande circulação para que pudesse escrever uma coluna sobre o tema “Turismo sustentável”. Tomando como base a coletânea proposta e o repertório sociocultural adquirido ao longo de sua formação e prática, produza um artigo de opinião para esse jornal desenvolvendo as ideias presentes na coletânea e demonstrando como praticá-lo. Não assine o artigo, tampouco adote nomes fictícios e/ou abreviações.

B – Carta de leitor

O gênero carta de leitor manifesta a opinião do emissor sobre assuntos publicados na mídia, como jornais e revistas, dirigindo-se, comumente, ao(à) autor(a) da matéria veiculada, ou ainda ao(à) representante dessa mídia, por exemplo, o(a) editor(a). A carta de leitor possui caráter argumentativo e tom persuasivo na busca de convencer o seu interlocutor sobre o ponto de vista apresentado.

Escreva uma carta de leitor direcionada à Direção do Sebrae-GO, a fim de discutir sobre o tema “Turismo sustentável”. Na interlocução com o analista, por meio da carta, discuta pontos importantes da temática proposta e sugira meios de praticá-lo. Utilize-se dos textos da coletânea como base para delinear sua premissa e defender seu ponto de vista, além do repertório sociocultural adquirido ao longo de sua formação e prática. Não assine a carta, tampouco adote nomes fictícios e/ou abreviações

ATENÇÃO

Em qualquer uma das duas propostas que você escolher, o seu texto NÃO deve ser assinado.

FOLHA RASCUNHO

1
2
3
4
5
6
7
8
9
10
11
12
13
14
15
16
17
18
19
20
21
22
23
24
25
26
27
28
29
30